

Bevegelse i én dimensjon (2)

22.01.2013

Bevegelsesligninger

Vi starter fra definisjonen av akselerasjonen: $a(t) = \frac{dv}{dt}$

$$\int_{t_0}^t a(t) dt = \int_{t_0}^t \frac{dv}{dt} dt = v(t) - v(t_0) \quad \Rightarrow \quad v(t) = v(t_0) + \int_{t_0}^t a(t) dt$$

Vi integrerer hastigheten for å finne posisjonen: $v(t) = \frac{dx}{dt}$

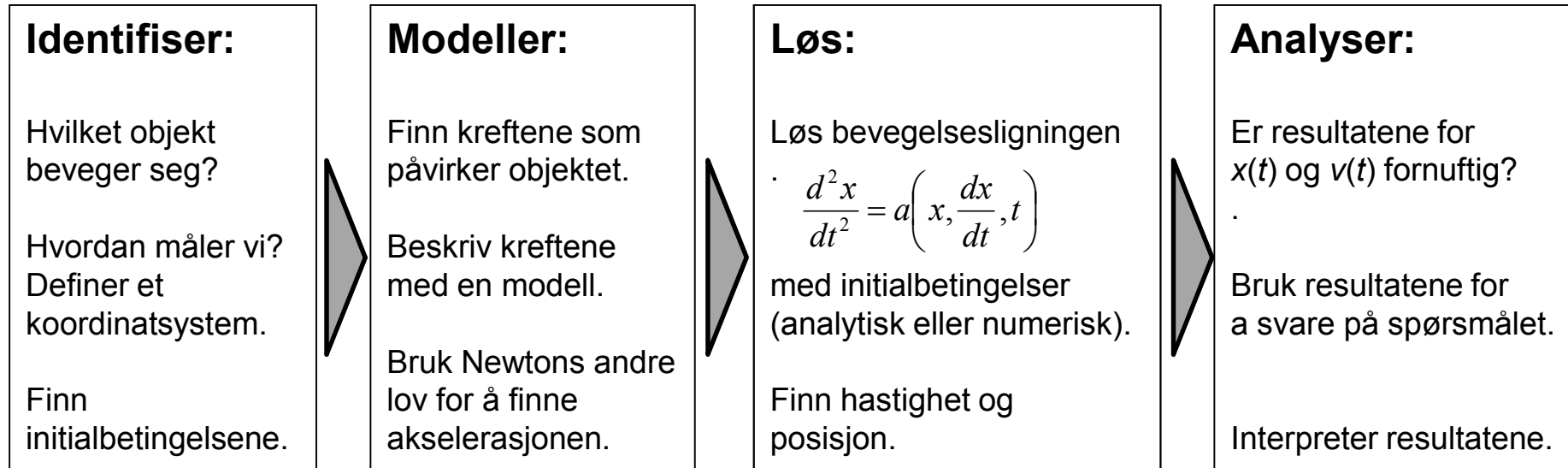
$$\int_{t_0}^t v(t) dt = \int_{t_0}^t \frac{dx}{dt} dt = x(t) - x(t_0)$$

$$x(t) = x(t_0) + \int_{t_0}^t v(t) dt = x(t_0) + \int_{t_0}^t \left(v(t_0) + \int_{t_0}^t a(t) dt \right) dt$$

$$x(t) = x(t_0) + v(t_0)(t - t_0) + \int_{t_0}^t \int_{t_0}^t a(t) dt dt$$

Vi kan finne hastigheten og posisjonen som funksjon av tiden dersom vi kjenner akselerasjonen $a(t)$ og initialbetingelsene v_0 og x_0 . Integrasjon utføres analytisk eller numerisk.

Generell løsningsmetode



Eksempel: bevegelse med konstant akselerasjon

Du står på en klippe og kaster en ball oppover fra en punkt 4 m over bakken med en hastighet av 10 m/s. Tyngdeakselerasjon er $g = 9.8 \text{ m/s}^2$.

- Hva er maksimale høyden til ballen?
- Hvor lang tar det for å treffe bakken?

Identifiser:

Hvilket objekt beveger seg?

Hvordan måler vi? Definer et koordinatsystem.

Finn initialbetingelsene.

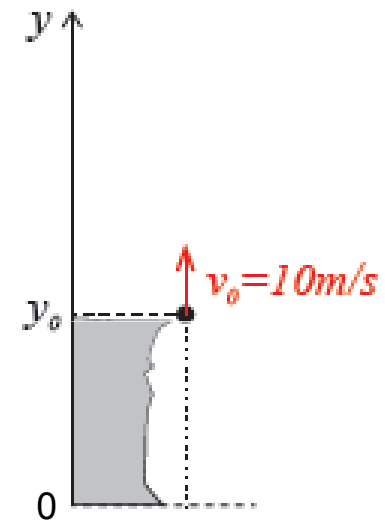
Først lage vi en tegning og definere koordinatsystemet.

Initialbetingelser:

$$y(t_0) = 4 \text{ m}$$

$$v(t_0) = 10 \text{ m/s}$$

Vi kaster ballen ved tiden $t_0 = 0 \text{ s}$.



Modeller:

Finn kreftene som påvirker objektet.

Beskriv kreftene med en modell.

Bruk Newtons andre lov for å finne akselerasjonen.

Ballen er påvirket av tyngdeakselerasjon, som virker nedover mot bakken og er konstant med $g = 9.8 \text{ m/s}^2$.

Vi ser bort fra andre krefter som påvirker ballen, f. eks. luftmotstand.

Vi velger et forenkelt modell; resultatene er tilnærminger.

$$a(t) = a_0 = -g = -9.8 \text{ m/s}^2$$

Løs:

Løs bevegelsesligningen

$$\frac{d^2x}{dt^2} = a\left(x, \frac{dx}{dt}, t\right)$$

med initialbetingelser
(analytisk eller numerisk).

Finn hastighet og
posisjon.

Vi må løse differensialligningen:

$$\frac{d^2x}{dt^2} = \frac{dv}{dt} = a(t) = a_0 = -g = -9.8 \text{ m/s}^2$$

Vi velger å gjøre det analytisk
fordi det er enkelt med konstant akselerasjon.

Vi integrerer akselerasjonen for å få hastigheten:

$$v(t) - v(t_0) = \int_0^t a(t) dt = \int_0^t (-g) dt$$

$$v(t) = v_0 - gt$$

Vi integrerer hastigheten for å få posisjonen:

$$y(t) - y(t_0) = \int_0^t v(t) dt = \int_0^t (v_0 - gt) dt$$

$$y(t) = y_0 + \int_0^t v_0 dt - \int_0^t gt dt = y_0 + v_0 t - \frac{1}{2} gt^2$$

Analyser:

Er resultatene for $x(t)$ og $v(t)$ fornuftig?

.

Bruk resultatene for å svare på spørsmålet.

Interpreter resultatene.

$$v(t) = v_0 - gt$$

$$y(t) = y_0 + v_0 t - \frac{1}{2} g t^2$$

$$t = 0 \quad \Rightarrow \quad v(0) = v_0 ; \quad y(0) = y_0$$

Hva er maksimale høyden til ballen?

Du kaster ballen oppover, men gravitasjonen trekker ned.
I det høyeste punktet må hastigheten være null.

Matematisk: Funksjonen $y(t)$ har et ekstremverdi for $\frac{dy}{dt} = v(t) = 0$

For hastigheten har vi funnet: $v(t) = v_0 - gt$

Ballen kommer til den høyeste punkt ved tid t_1

$$v(t_1) = v_0 - gt_1 = 0 \text{ m/s}$$

$$t_1 = \frac{v_0}{g}$$

For høyden har vi funnet:

$$y(t) = y_0 + v_0 t - \frac{1}{2} g t^2$$

Ved tid t_1 er høyden:

$$y(t_1) = y_0 + v_0 t_1 - \frac{1}{2} g t_1^2$$

$$y(t_1) = y_0 + v_0 \frac{v_0}{g} - \frac{1}{2} g \frac{v_0^2}{g^2} = y_0 + \frac{1}{2} \frac{v_0^2}{g}$$

$$y(t_1) = 4 \text{ m} + \frac{1}{2} \frac{(10 \text{ m/s})^2}{9.8 \text{ m/s}^2} \approx 9.1 \text{ m}$$

Den maksimale høyden til ballen er 9.1 m.

Hvor lang tar det for å treffe bakken?

Ballen treffer på bakken ($y=0$) ved tid t_2 : $y(t_2) = y_0 + v_0 t_2 - \frac{1}{2} g t_2^2 = 0 \text{ m}$

Vi må løse en andregradsligning: $t_2^2 - \frac{2v_0}{g} t_2 - \frac{2y_0}{g} = 0$

$$t_2 = \frac{v_0}{g} \pm \sqrt{\frac{v_0^2}{g^2} + \frac{2y_0}{g}}$$

$$t_2 = \frac{10 \text{ m/s}}{9.8 \text{ m/s}^2} \pm \sqrt{\left(\frac{10 \text{ m/s}}{9.8 \text{ m/s}^2}\right)^2 + 2 \frac{4 \text{ m}}{9.8 \text{ m/s}^2}}$$

Vi får to løsninger: $t_2 = 2.38 \text{ s}$ eller $t_2 = -0.34 \text{ s}$.

Vi har startet klokken ved ballkast;
bare den positive løsningen er meningsfylt.

Ballen treffer på bakken 2.38 s etter kastingen.

Numerisk integrasjon:

Akselerasjon er definert som:

$$a(t_i) = \lim_{\Delta t} \frac{v(t_i + \Delta t) - v(t_i)}{\Delta t} \simeq \frac{v(t_i + \Delta t) - v(t_i)}{\Delta t} = \bar{a}(t_i) \quad \text{hvis } \Delta t \text{ er små}$$

$$v(t_i + \Delta t) - v(t_i) = \Delta t \cdot \bar{a}(t_i) \simeq \Delta t \cdot a(t_i)$$

$$v(t_i + \Delta t) \simeq v(t_i) + a(t_i) \cdot \Delta t$$

Gitt at vi kjenner $a(t)$ og hastighet $v(t_0)$, så kan vi gå framover i tiden og finner hastighet ved alle tider:

$$v(t_1) = v(t_0 + \Delta t) = v(t_0) + a(t_0) \Delta t$$

$$v(t_2) = v(t_1 + \Delta t) = v(t_1) + a(t_1) \Delta t$$

...

Tilsvarende finner vi posisjonen fra hastigheten:

$$v(t_i) = \lim_{\Delta t} \frac{x(t_i + \Delta t) - x(t_i)}{\Delta t} \simeq \frac{x(t_i + \Delta t) - x(t_i)}{\Delta t} = \bar{v}(t_i)$$

$$x(t_i + \Delta t) - x(t_i) = \Delta t \cdot \bar{v}(t_i) \simeq \Delta t \cdot v(t_i)$$

$$x(t_i + \Delta t) \simeq x(t_i) + v(t_i) \cdot \Delta t$$

Vi har funnet en metode for å finne $x(t)$ og $v(t)$ hvis vi kjenner:

- akselerasjonen: $a(t)$
- initialbetingelser: $x(t_0)$, $v(t_0)$

Euler metode:

$$v(t_{i+1}) = v(t_i + \Delta t) \approx v(t_i) + a(t_i, x(t_i), v(t_i)) \Delta t$$

$$x(t_{i+1}) = x(t_i + \Delta t) \approx x(t_i) + v(t_i) \Delta t$$

Vi må bruke små Δt og mange skritt for å nå en god presisjon.

Vi kan redusere feilen med en liten forbedring:
I stedet for hastigheten i begynnelsen av tidsintervallet bruke vi hastigheten på slutten for å finne posisjonen.

Euler-Cromer metode:

$$v(t_{i+1}) = v(t_i + \Delta t) \approx v(t_i) + a(t_i, x(t_i), v(t_i)) \Delta t$$

$$x(t_{i+1}) = x(t_i + \Delta t) \approx x(t_i) + v(t_i + \Delta t) \Delta t = x(t_i) + v(t_{i+1}) \Delta t$$

Leonhard Euler
(1707–1783)

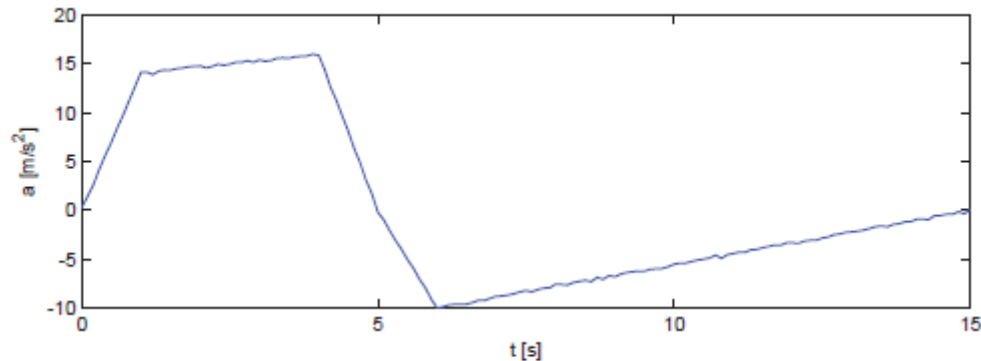


Eksempel for numerisk integrasjon:

Du utvikler "The Rocket", en ny attraksjon ved en fornøylespark.

Du har festet et akselerometer til en test-vogn for å finne hastigheten og posisjonen.

Dette er målingen din:



t [s]	a [m/s ²]
0.0	0.27
0.1	1.44
0.2	2.67
0.3	4.24
0.4	5.65
0.5	6.95
0.6	8.42
0.7	9.74
0.8	11.20
0.9	12.64
1.0	14.11

Vi kjenner akselerasjonen $a(t_i)$ for $t_i = 0.0s, 0.1s, 0.2s, \dots$

Du kjenner initialbetingelser: "The Rocket" starter i ro:

$$x(t_0) = x_0 = 0m, v(t_0) = v_0 = 0m/s$$

Vi bruker Euler metoden
med tidsskritt $\Delta t = 0.1s$:

$$v(t_i + \Delta t) = v(t_{i+1}) \approx v(t_i) + a(t_i) \Delta t$$

$$x(t_i + \Delta t) = x(t_{i+1}) \approx x(t_i) + v(t_i) \Delta t$$

Euler metode

$$v(t_i + \Delta t) = v(t_{i+1}) \approx v(t_i) + a(t_i) \Delta t$$

$$x(t_i + \Delta t) = x(t_{i+1}) \approx x(t_i) + v(t_i) \Delta t$$

$$t_0 = 0.0 \text{ s}$$

$$\Delta t = 0.1 \text{ s}$$

$$v(t_0) = v(0.0 \text{ s}) = 0.0 \text{ m/s}$$

$$x(t_0) = x(0.0 \text{ s}) = 0 \text{ m}$$

$$t_1 = t_0 + \Delta t = 0.1 \text{ s}$$

$$v(0.1 \text{ s}) = v(0.0 \text{ s}) + a(0.0 \text{ s}) \Delta t = 0.0 \text{ m/s} + 0.27 \text{ m/s}^2 \cdot 0.1 \text{ s} = 0.03 \text{ m/s}$$

$$x(0.1 \text{ s}) = x(0.0 \text{ s}) + v(0.0 \text{ s}) \Delta t = 0.0 \text{ m} + 0.0 \text{ m/s} \cdot 0.1 \text{ s} = 0.0 \text{ m}$$

$$t_2 = t_1 + \Delta t = 0.2 \text{ s}$$

$$v(0.2 \text{ s}) = v(0.1 \text{ s}) + a(0.1 \text{ s}) \Delta t = 0.03 \text{ m/s} + 1.44 \text{ m/s}^2 \cdot 0.1 \text{ s} = 0.17 \text{ m/s}$$

$$x(0.2 \text{ s}) = x(0.1 \text{ s}) + v(0.1 \text{ s}) \Delta t = 0.0 \text{ m} + 0.03 \text{ m/s} \cdot 0.1 \text{ s} = 0.003 \text{ m}$$

$$t_3 = t_2 + \Delta t = 0.3 \text{ s}$$

$$v(0.3 \text{ s}) = v(0.2 \text{ s}) + a(0.2 \text{ s}) \Delta t = 0.17 \text{ m/s} + 2.67 \text{ m/s}^2 \cdot 0.1 \text{ s} = 0.44 \text{ m/s}$$

$$x(0.3 \text{ s}) = x(0.2 \text{ s}) + v(0.2 \text{ s}) \Delta t = 0.003 \text{ m} + 0.17 \text{ m/s} \cdot 0.1 \text{ s} = 0.02 \text{ m}$$

t [s]	a [m/s ²]
-------	-----------------------

0.0	0.27
-----	------

0.1	1.44
-----	------

0.2	2.67
-----	------

0.3	4.24
-----	------

0.4	5.65
-----	------

0.5	6.95
-----	------

0.6	8.42
-----	------

0.7	9.74
-----	------

0.8	11.20
-----	-------

0.9	12.64
-----	-------

1.0	14.11
-----	-------

Metoden er slitsomt for oss mel lett å programmere.

```

load -ascii therocket.dat
t = therocket(:,1);
a = therocket(:,2);
dt = t(2) - t(1);
n = length(t);
v = zeros(n,1);
x = zeros(n,1);
for i = 1:n-1
    v(i+1) = v(i) + a(i)*dt;
    x(i+1) = x(i) + v(i)*dt;
end
subplot(3,1,1)
plot(t,x)
xlabel('t [s]');
ylabel('x [m]');
subplot(3,1,2)
plot(t,v)
xlabel('t [s]');
ylabel('v [m/s]');
subplot(3,1,3)
plot(t,a)
xlabel('t [s]');
ylabel('a [m/s^2]');

```

ascii fil "therocket.dat"

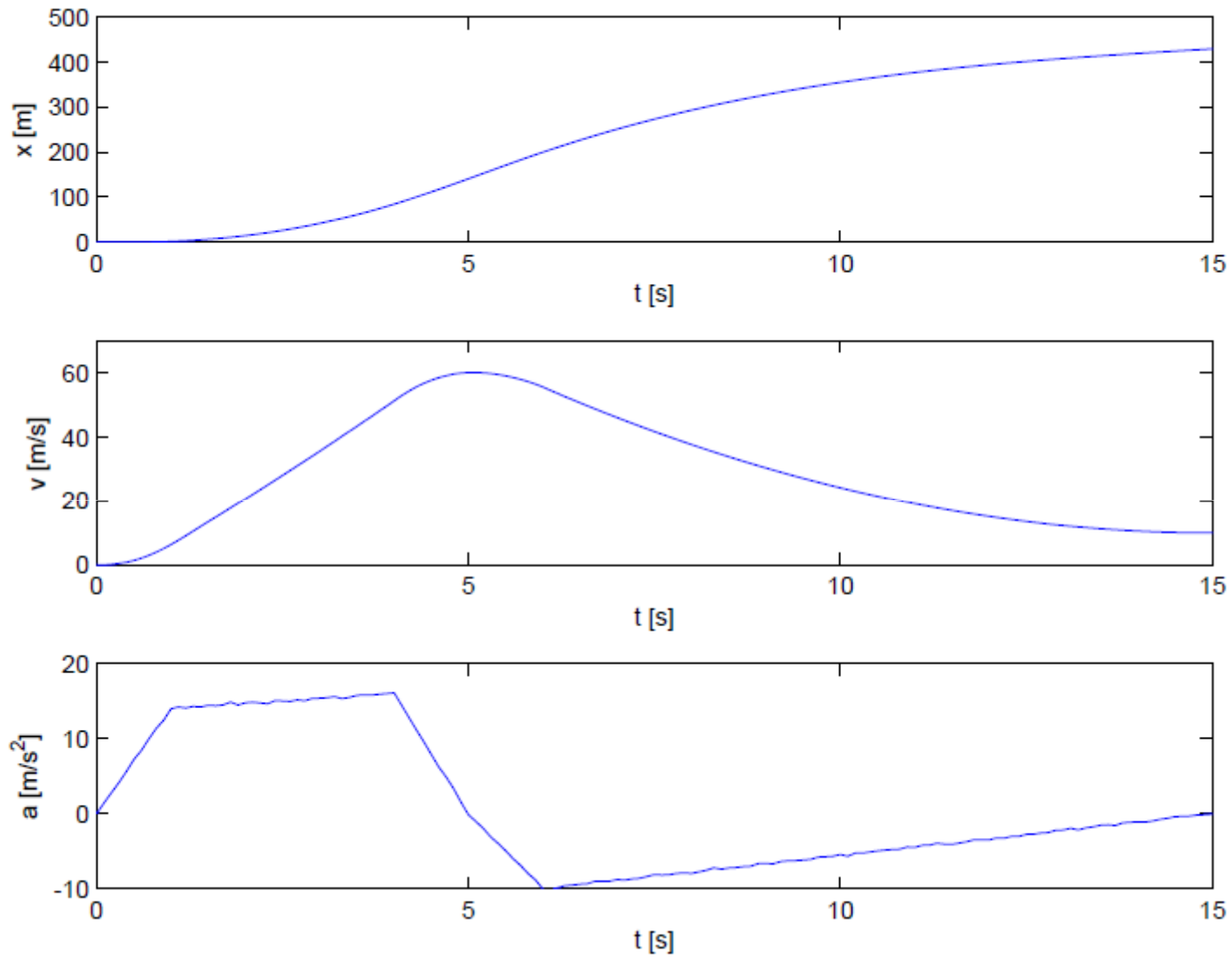
0.0	0.27
0.1	1.44
0.2	2.67
0.3	4.24
0.4	5.65
0.5	6.95
...	...

"arrays":

therocket: ($n \times 2$) matrise
 t , a , v , x : ($n \times 1$) matriser

alltid husk label og enhet

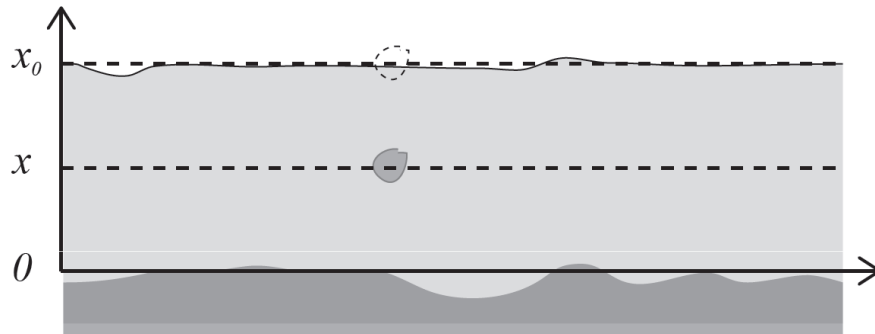
Eksempel: "The Rocket"



Eksempel: sandkorn i vannet

Et sandkorn synker i vann med akselerasjon $a(t) = -a_0 - cv(t)$,
hvor $a_0 = 6.2 \text{ m/s}^2$ og $c = 1.8 \text{ s}^{-1}$.

Hvor lang tid tar det for å synke fra overflaten til bunnen på 2 m dybde?



initialbetingelser:

$$x(t_0) = x_0 = 2 \text{ m}$$

$$v(t_0) = v_0 = 0 \text{ m/s}$$

$$t_0 = 0 \text{ s}$$

Vi kjenner akselerasjonen: $a(t) = -a_0 - cv(t)$

Vi må løse differensialligningen: $\frac{d^2x}{dt^2} = -a_0 - c \frac{dx}{dt}$

$$\frac{dv}{dt} = -a_0 - cv$$

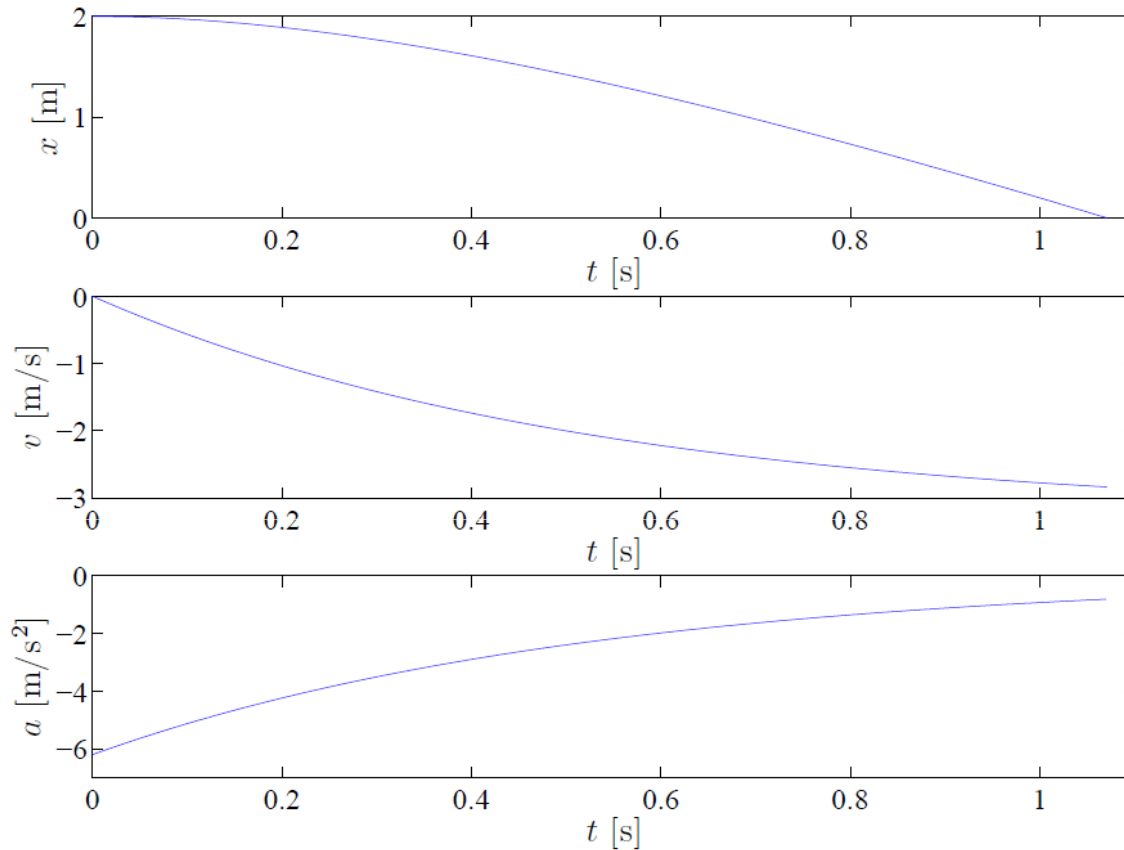
Numerisk løsning med Euler metode:

$$v(t_{i+1}) = v(t_i) + a(t_i) \Delta t$$
$$x(t_{i+1}) = x(t_i) + v(t_i) \Delta t$$

```
a0 = 6.2; % m/s^2
c = 1.8; % s^-1
time = 2.0; % s
dt = 0.001; % s
n = ceil(time/dt);
t = zeros(n,1);
x = zeros(n,1);
v = zeros(n,1);
a = zeros(n,1);
x(1) = 2.0; % m
t(1) = 0.0; % s
v(1) = 0.0; % m/s
i = 1;
while (i<n-1)&&(x(i)>0.0)
    a(i) = -a0 -c*v(i);
    v(i+1) = v(i) + dt*a(i);
    x(i+1) = x(i) + dt*v(i);
    t(i+1) = t(i) + dt;
    i = i + 1;
end
```

```
printf ("t=%f x(t)=%f\n",t(i),x(i));
subplot(3,1,1)
plot(t(1:i),x(1:i))
xlabel('t [s]')
ylabel('x [m]')
subplot(3,1,2)
plot(t(1:i),v(1:i))
xlabel('t [s]')
ylabel('v [m/s]')
subplot(3,1,3)
plot(t(1:i-1),a(1:i-1))
xlabel('t [s]')
ylabel('a [m/s^2]')
```

Resultater og interpretasjon:



Sandkornet treffer bunnen etter 1.053 s.

Hastigheten nedover øker rask og går mot en konstant verdi etterpå.

$$a(t) = -a_0 - cv(t)$$

Akselerasjon nedover blir mindre fordi friksjonen øker med hastighet. Akselerasjonen går mot null.

"The Rocket":

Vi kjenner $a(t)$ for diskrete tidspunkter fra malinger som vi leser fra en datafil. Tidsskritt er bestemt fra målingen.

```
load -ascii therocket.dat
t = therocket(:,1);
a = therocket(:,2);
dt = t(2) - t(1);
n = length(t);
v = zeros(n,1);
x = zeros(n,1);
for i = 1:n-1
    v(i+1) = v(i) + a(i)*dt;
    x(i+1) = x(i) + v(i)*dt;
end
```

Sandkorn i vannet:

Vi kjenner funksjonen $a(t)$ fra et modell. Vi må beregne $a(t_i)$ for hver tidsskritt. Vi kan velge tidsskritt Δt .

```
dt = 0.001; % s
n = ceil(time/dt);
t = zeros(n,1);
x = zeros(n,1);
v = zeros(n,1);
a = zeros(n,1);
x(1) = 2.0; % m
t(1) = 0.0; % s
v(1) = 0.0; % m/s
i = 1;
while (i<n-1) && (x(i)>0.0)
    a(i) = -a0 -c*v(i);
    v(i+1) = v(i) + dt*a(i);
    x(i+1) = x(i) + dt*v(i);
    t(i+1) = t(i) + dt;
    i = i + 1;
end
```

Siden vi kjenner funksjonen $a(t)$, kan vi løse problemet analytisk?

analytisk: $a(t) = -a_0 - cv(t)$

$$\frac{dv}{dt} = -a_0 - cv$$

$$\frac{dv}{a_0 + cv} = -dt$$

$$u = a_0 + cv$$

$$du = c dv$$

$$\frac{du}{u} = -c dt$$

$$\int_{u(0)}^{u(t)} \frac{du}{u} = - \int_0^t c dt$$

$$\ln u(t) - \ln u(0) = \ln \frac{u(t)}{u(0)} = -ct$$

$$u(t) = a_0 + cv(t) = u(0)e^{-ct} = (a_0 + cv_0)e^{-ct}$$

$$v(t) = -\frac{a_0}{c} + \left(\frac{a_0}{c} + v_0\right)e^{-ct}$$

$$t = 0 \Rightarrow v(t) = v_0$$

$$t \rightarrow \infty \Rightarrow v(t) = -\frac{a_0}{c}$$

terminalhastighet

$$v(t) = -\frac{a_0}{c} + \left(\frac{a_0}{c} + v_0\right)e^{-ct} = -v_T + (v_T + v_0)e^{-ct}$$

$$x(t) - x(0) = \int_0^t v(t) dt = \int_0^t \left(-v_T + (v_T + v_0)e^{-ct}\right) dt$$

$$= -v_T t + (v_T + v_0) \int_0^t (e^{-ct}) dt$$

$$= -v_T t - \frac{(v_T + v_0)}{c} (e^{-ct} - 1)$$

$$x(t) = x_0 - v_T t - \frac{(v_T + v_0)}{c} (e^{-ct} - 1) \quad t = 0 \Rightarrow x(t) = x_0 - 0 - \frac{(v_T + v_0)}{c} (1 - 1) = x_0$$

Vi har funnet en funksjon som beskriver posisjon, men vi kan ikke løse ligningen $x(t) = 0$ analytisk. (Vi kunne gjøre det numerisk.)